

Minusaufgaben in der Umwelt

2 Welche Aufgaben passen zum Bild?

$5 - 3$

$3 - 3$

$11 - 3$

$7 - 3$


$15 - 3$

$10 - 4$




$11 - 3 = 8$

$7 - 3 = 4$



$10 - 4 = 6$

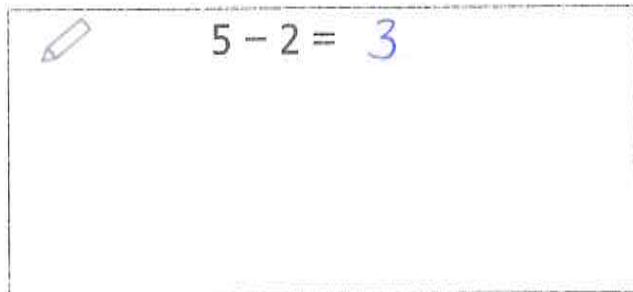
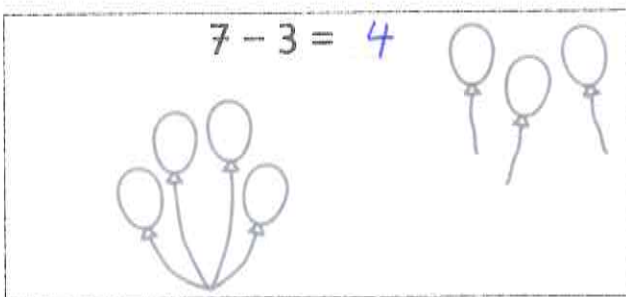
$3 - 3 = 0$



$15 - 3 = 12$

$5 - 3 = 2$

3



$9 - 4 = 5$

$3 - 1 = 2$

$4 - 3 = 1$

$7 - 5 = 2$

$9 - 3 = 6$

4 Schreibe Aufgaben und male Bilder dazu.

Kinder beschreiben die Bilder und erzählen dazu Geschichten. Verschiedene Aspekte der Bilder liefern verschiedene Aufgaben. Hier sollen verschiedene passende Aufgaben zu jedem Bild geschrieben werden. 3 Zu vorgegebenen Aufgaben passende Bilder malen. 4 Im Heft eigene Bilder malen und dazu Minusaufgaben schreiben.

